
























問題：下にはじゃんけんの、グー、チョキ、パーのいずれかが書かれています。それぞれの絵を見て、絵の下の指示通りに、「勝つ」なら勝つものを、「負ける」なら負けるものを、「あいこ」ならあいこのものをグー、チョキ、パーいずれかで、その下に文字を書き入れていきましょう。

					
勝つ	負ける	あいこ	あいこ	勝つ	負ける
例 パー	例 パー				
					
勝つ	負ける	あいこ	あいこ	勝つ	負ける
					
あいこ	勝つ	負ける	あいこ	勝つ	あいこ
					
負ける	勝つ	勝つ	負ける	負ける	勝つ

問題：ここからは、グー、チョキ、パーではない、関係の無い手の形も含まれています。  
 じゃんけんでない手の形が出てきたら、下の空白の欄に×と書いて下さい。

					
勝つ	勝つ	あいこ	あいこ	勝つ	負ける
例 ×					
					
あいこ	負ける	勝つ	あいこ	負ける	負ける
					
負ける	勝つ	あいこ	あいこ	勝つ	あいこ
					
負ける	勝つ	負ける	負ける	あいこ	勝つ

問題：ここからは、じゃんけんでなく、手の指の数と、下の数を計算した答えを書き入れて下さい。(※グーは「ゼロ」として計算して下さい)

					
+2	-1	+5	×3	+10	×10
					
-3	×6	+9	+2	×3	-4
					
+35	+7	×3	+99	+37	×7
					
-3	+25	×25	×33	+33	-4